

PISTE

11-14 ans

Test des capacités cognitives
particulières à la course d'orientation

Exemples de tâches

Nom : _____

Prénom : _____

Année : _____

Région : _____

Date : _____

Name:

Vorname:



Informations générales:

- Durée: le test devrait durer environ 30 minutes. Le temps est suffisant et ça ne devrait pas être stressant.
- Evaluation:
 - 2 points pour une réponse correcte;
 - 0 point si aucune réponse;
 - -1 point pour une réponse fausse
- La réponse doit être clairement cochée/marquée. Si la croix n'est pas claire ou si plusieurs réponses sont cochées, la réponse sera considérée comme fausse, comme indiqué sur les exemples suivants :

A	B	C	Evaluation:
<input type="checkbox"/>	<input checked="" type="checkbox"/>	<input type="checkbox"/>	Réponse «B»
<input checked="" type="checkbox"/>	<input checked="" type="checkbox"/>	<input type="checkbox"/>	Réponse «B»
<input type="checkbox"/>	<input checked="" type="checkbox"/>	<input checked="" type="checkbox"/>	Réponse «B»
<input type="checkbox"/>	<input type="checkbox"/>	<input type="checkbox"/>	«Aucune réponse»
<input checked="" type="checkbox"/>	<input checked="" type="checkbox"/>	<input type="checkbox"/>	«Aucune réponse»
<input type="checkbox"/>	<input checked="" type="checkbox"/>	<input checked="" type="checkbox"/>	Deux coches => réponse fausse
<input checked="" type="checkbox"/>	<input type="checkbox"/>	<input checked="" type="checkbox"/>	Deux coches => réponse fausse



Exemple de tâche 1:

De quel symbole de carte s'agit-il ?

No.	Symbole	A	B	C
1.1		<input type="checkbox"/> Ligne électrique	<input type="checkbox"/> Clôture	<input type="checkbox"/> Voie ferré
1.2		<input type="checkbox"/> Pylône de ligne électrique	<input type="checkbox"/> Petite tour	<input type="checkbox"/> Haute tour

Exemple de tâche 2:

De quel symbole de la définition des postes s'agit-il ?

No.	Symbol	A	B	C
2.1		<input type="checkbox"/> Ravine	<input type="checkbox"/> Layon	<input type="checkbox"/> Escalier
2.2		<input type="checkbox"/> Rentrant	<input checked="" type="checkbox"/> Eperon	<input type="checkbox"/> Dépression

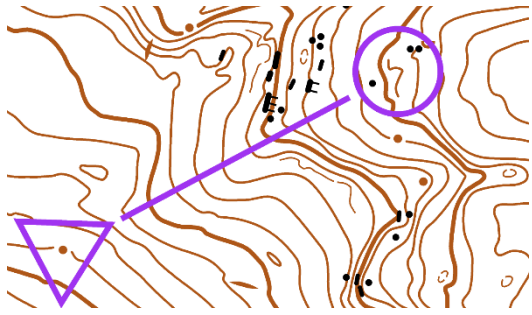
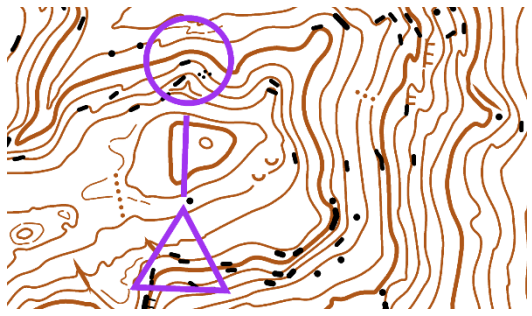
Name:

Vorname:

Exemple de tâche 3:

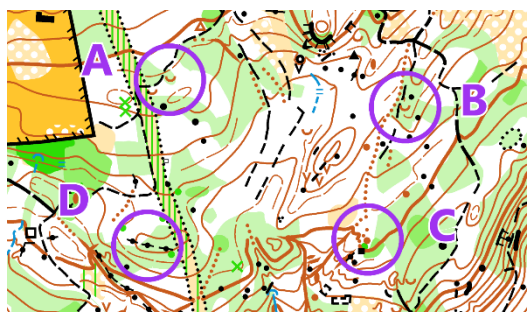
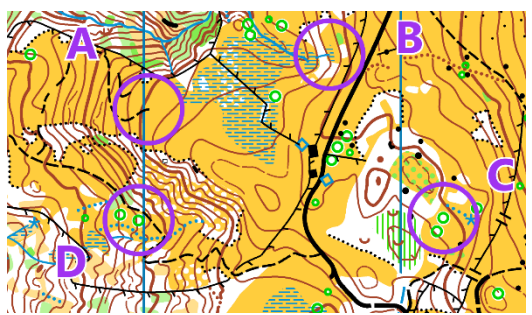
montée; descente; montée-descente; descente-montée

Il s'agit toujours de la ligne directe du départ jusqu'au poste.

No.		montée	descente	montée-descente	descente-montée
3.1		<input type="checkbox"/>	<input type="checkbox"/>	<input type="checkbox"/>	<input type="checkbox"/>
3.2		<input type="checkbox"/>	<input type="checkbox"/>	<input type="checkbox"/>	<input type="checkbox"/>

Exemple de tâche 4:

Poste le plus haut



No.	Quel est le poste le plus haut ?	A	B	C	D
4.1		<input type="checkbox"/>	<input type="checkbox"/>	<input type="checkbox"/>	<input type="checkbox"/>
4.2		<input type="checkbox"/>	<input type="checkbox"/>	<input type="checkbox"/>	<input type="checkbox"/>

Name:

Vorname:





Exemple de tâche 5:

Route la plus courte

No.	Quelle est la route la plus courte ?	A	B
5.1		<input type="checkbox"/>	<input type="checkbox"/>
5.2		<input type="checkbox"/>	<input type="checkbox"/>

Exemple de tâche 6:

Emplacement du poste

No.	Quel est l'emplacement du poste représenté sur la photo ?	A	B	C
6.1		 <input type="checkbox"/>	 <input type="checkbox"/>	 <input type="checkbox"/>

Name:

Vorname:

6.2		 <input type="checkbox"/>	 <input type="checkbox"/>	 <input type="checkbox"/>
-----	--	------------------------------	------------------------------	------------------------------

Exemple de tâche 7:

Quelle est la bonne réponse ?

No.	Tâche		A		B		C
7.1	Echelle: 1:10'000 Terrain: 150m Carte: ___???___	<input type="checkbox"/>	3cm	<input type="checkbox"/>	1.5cm	<input type="checkbox"/>	15cm
7.2	Echelle: 1:4'000 Terrain ___???___ Carte: 2cm	<input type="checkbox"/>	80m	<input type="checkbox"/>	800m	<input type="checkbox"/>	40m